



PŘIJÍMACÍ ZKOUŠKY
VŠEOBECNÝ PŘEHLED
Letohradské soukromé gymnázium, o.p.s.
VP – 5 – 2006
1. kolo, 24. dubna 2006

Letohradské soukromé gymnázium o.p.s., Václavské nám. č. 1, Letohrad 561 51
tel., fax: 465 622 249, e-mail: lsg@lsg.cz, www.lsg.letohrad.cz

Kód:

Body:

Celkové hodnocení:

1. Náš STÁT se JMENUJE a VZNIKL roku
..... Jeho PRVNÍM PREZIDENTEM byl a
SOUČASNÝM je, který SÍDLÍ v Praze na
.....

2. Naše KRAJSKÉ MĚSTO je/jsou:
.....

3. Napiš podle ABECEDY HLAVNÍ MĚSTA našich SOUSEDŮ:
.....
.....
.....

4. Vytvoř správné dvojice:

- | | |
|---------------------------|---|
| a) Finsko – | A) kolébka olympijských her |
| b) Velká Británie – | B) země tisíců jezer |
| c) Nizozemí – | C) Londýn |
| d) Řecko – | D) země vodních kanálů a větrných mlýnů |

5. Zakroužkuj, co do trojice NEPATŘÍ, a napiš PROČ:

§ Lysá hora – jižní Morava – Beskydy
.....

§ Šumava – hranice s Německem – pramen Labe
.....

§ severní Čechy – Český Těšín – Ohře
.....

6. Napiš PLANETY sluneční soustavy:

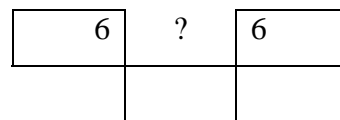
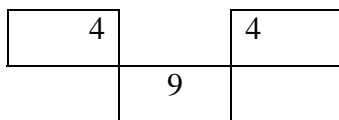
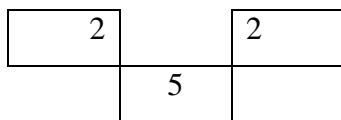
- a) NEJBLIŽŠÍ Slunci –
- b) NEJVZDÁLENĚJŠÍ od Slunce –
- c) NEJVĚTŠÍ –

7. GRAVITACE způsobuje, že:
.....

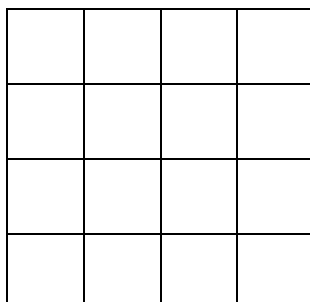
25. Státní útvar ZEMĚ KORUNY ČESKÉ byl vytvořen za VLÁDY:

- a) Marie Terezie b) Karla IV. c) Rudolfa II. d) Václava IV.

26. Doplň chybějící číslo:



27. Kolik ČTVERCŮ je na obrázku?

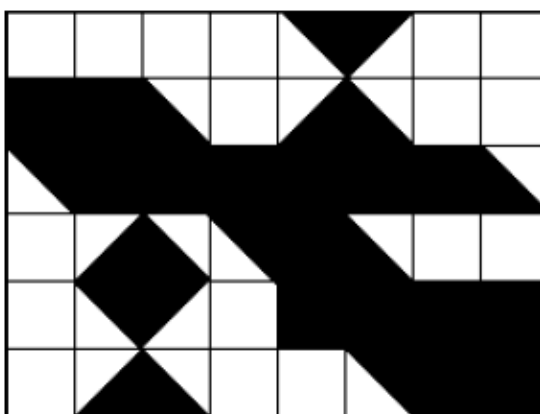


28. Urči, která dvojice má nejpodobnější vztah jako „PARNÍK – PŘÍSTAV“:

- a) kolo - zámek b) auto - garáž c) vlak - koleje
d) lyže - sníh e) brusle - kluziště

29. Pět silných mužů vynese pět těžkých pytlů do pátého patra za pět minut. Za kolik minut vynese 30 mužů do pátého patra třicet pytlů?

.....
30. V obdélníku o obsahu 48 čtverečních jednotek je jistá plocha vyplněná černě. KOLIK čtverečních jednotek této plochy je ČERNÝCH?



- a) 23 b) 24 c) 26 d) 25 e) 27

KONEC TESTU